

VORSTENBOSCH 'KWIST

EDITIE 2023

Teamnaam: _____

Teamnummer: _____

Categorie Joker: _____

In te vullen door organisatie:

Tijd inlevering: _____

Nummer: _____



VORSTENBOSCH 'KWIST VOORWOORD

Voor je ligt het 'kwistboek van editie 2023 van Vorstenbosch 'kwist, met daarin weer veel vragen, puzzels, raadsels en opdrachten. Lees het boek goed door, want we verwachten op verschillende tijdstippen een vertegenwoordiger van je team op verschillende locaties. Ook moet je dit jaar weer een aantal antwoorden op de meegeleverde usb-stick zetten.

Let op! Bij categorie 21 moet je op bepaalde tijden ergens naartoe. Kom op tijd!
Te laat = pech gehad!

Enkele vragen zullen vanavond live gesteld worden op radio NosTos. Deze digitale radiozender uit Vorstenbosch is alleen te beluisteren via www.radionostos.nl en speciaal voor deze avond nog 1 keer in de lucht. Deze vragen zullen slechts één keer gesteld worden om ca. 19.30 / 20.30 / 21.30 en 22.30 uur. Verder is het mogelijk om verzoekjes aan te vragen voor jezelf of voor andere teams om die succes te wensen (of niet). Bel met Michel van Zuijlen 06-45132873.



Alle geluids- en filmfragmentvragen zijn te vinden op:
<https://vorstenboschkwist.nl/2023-paardindegang.html>

Je hebt een tas gekregen met daarin een 'kwistboek, een usb-stick en een gebaksdoos. Als je klaar bent dien je de tas weer in te leveren met het ingevulde boek, de usb-stick en de gevraagde werkstukken.

Inleveren: de tas dient op tijd ingeleverd te worden bij Smook. En op tijd betekent vóór klokslag 23.00 uur. Het inleveren van het boek kun je dit jaar weer gerust met het hele team doen, want dan kun je gelijk aansluiten bij de afterparty bij Smook onder begeleiding van DJ Wout en Joris.

Succes!

Het 'Kwist-team

Henny van Houtum, Coen Jansen, Kitty Verstegen, William Verkuijlen, Sylvia van de Leest, Inge van der Pas, Tom Huberts, Monique Verkuijlen, Inge Klomp en Roel van Groesen.



1. DOEKOE

1.1 De Quote 500 is een leuke lijst van vermogende Nederlanders.
Hieronder enkele vragen over de personen uit de lijst van het jaar 2022.

1.1.a Wie is de man die meer dan 1 miljard eigen vermogen heeft en de oprichter is van een cosmeticabedrijf?

Raymond Cloosterman

1.1.b Wie is de man die als hoogste in de Quote staat genoteerd met het importeren van auto's?

Wijnand Pon

1.1.c Wie zaait zal oogsten, dat geldt zeker voor deze meneer.



Hij staat ook in deze Quote 500. Wat is zijn naam?


Piet Mazereeuw

1.1.d Welke vrouw vist zeker niet achter het net en wordt daar vrolijk van?

Annerieke vrolijk

1.1.e Van chocolade word je ook vrolijk, maar wie het allermeeeste volgens deze Quote?

Fons Walder



1. DOEKOE



1.2

Bij het spel Monopoly draait het vooral om geld. Speel dit spel volgens de onderstaande spelregels en vul de antwoorden in.

- Gebruik een Monopoly Classic Euro variant.
- Speel het spel met 3 spelers.
- Kom je op een straat? Dan koop je deze (of betaalt de andere speler). Ook in de eerste ronde.
- Als je een straat bezit, dan wordt er niet gebouwd.
- Verder gelden alle originele spelregels.
- Speler 1 begint het spel met de eerste worp.

Worp	1	2	3	4	5	6	7	8	9
Dobbelsteen									
Worp	10	11	12	13	14	15	16	17	18
Dobbelsteen									

1.2.a

Welke speler heeft na 18 worpen één stad compleet?

Speler 1 (boot)

1.2.b

Wat is de totale hypotheekwaarde van alle straten in bezit van Speler 2 (auto)?

€ 290,-

1.2.c

Na welke worp komt welke speler op het vakje 'inkomstenbelasting'?

Speler 3 (hond) na 12^e worp

1.2.d


Welke straat wordt er na worp 13 gekocht?

Coolsingel

1.2.e

Wie heeft het meeste contant geld, na 18 worpen?

Speler 2 (auto)



1. DOEKOE

1.3 Welk land hoort of behoorde bij deze biljetten?

1.3.a



Zuid-Korea

1.3.d



Curaçao en/of Sint Maarten

1.3.b



België

1.3.e




Mexico

1.3.c



Aruba



1. DOEKOE

1.4

In Nederland wordt er gesproken over oud en nieuw geld wanneer mensen miljonair of zelfs miljardair worden. Welke van de onderstaande BN'ers is oud geld en welke nieuw geld?



1.4.a

oud geld



1.4.d

nieuw geld




1.4.b

oud geld




1.4.e

oud geld



1.4.c

oud geld



1. DOEKOE

1.5 Over de hele wereld zijn er allerlei banken.
Over welke banken hebben wij het bij onderstaande vragen?

1.5.a Welke bank lanceerde in november 2020 een commercial over het gebruik van hun app?

ING

1.5.b Welke bank sponsort een tennistoernooi waarin Martin Verkerk plots in de finale stond?

BNP Paríis / Paribas

1.5.c Waar in Londen staat de bank die speciaal is ingericht voor miljardairs?


Hyde Park / 46 Park Lane

1.5.d Wat is de meest risicovolle bank als je in 2019 belegd zou hebben?

Deutsche bank

1.5.e In 2010 bleek uit onderzoek dat de destijds zittende president van de Nederlandsche Bank eerder had moeten aftreden. Wie was dit?

Nout Wellink




2. GOEDE DOELEN

2.1 Op onderstaande data zijn nationale en internationale goededoelenorganisaties opgericht. Zoek uit de 10 genoemde jaartallen de 5 juiste op, noteer die achter de juiste datum en noem het goede doel dat op die datum is opgericht.

Jaartallen: 1864 - 1946 - 1949 - 1956 - 1961 - 1962 - 1968 - 1971 - 1972 - 1995

	Datum	Jaartal	Goede doel
2.1.a	2 april	1968	Jantje Beton
2.1.b	14 april	1972	Stichting AAP
2.1.c	17 januari	1949	Zonnebloem
2.1.d	22 augustus	1864	Rode Kruis
2.1.e	22 december	1971	Artsen zonder grenzen

2.2 Hieronder zie je een gedeelte van logo's van goede doelen. Noteer het juiste goede doel onder de afbeelding.



2.2.a

Warchild



2.2.d

GoedeDoelenWeek Vorstenbosch



2.2.b

Stichting opkikker




2.2.e

KWF



2.2.c

Prins Bernhard cultuurfonds



2. GOEDE DOELEN

2.3 Goede doelen zijn natuurlijk niet alleen landelijk en internationaal. Ook in Vorstenbosch wordt er regelmatig en voor diverse doelen ingezameld.

2.3.a Welke persoon in Vorstenbosch kreeg een cheque van € 1.457,75 uitgereikt?

Lindsey vogels

2.3.b In welk jaar werd er door de GoedeDoelenWeek Vorstenbosch € 7.746,06 opgehaald?

2018

2.4 In 2022 organiseerden Jong Nederland en De Piereslikkers een Dienstenveiling. Beantwoord de volgende vragen.

2.4.a Welke dienst werd in 2022 geveild onder kavelnummer 100?

Frietkar voor 50 personen

2.4.b Wie kocht de dienst?

William verkuïjlen (Complement reclame)

2.5 Vul in de vakjes de ontbrekende letters in om zo het juiste goede doel te krijgen.


2.5.a W a r c h i l d

2.5.b M a k e a w i s h

2.5.c T e r r e d e s H o m m e s

2.5.d D o e l b e w u s t v o o r h e t
G o e d e D o e l

2.5.e N a t u u r m o n u m e n t e n



3. RECLAME

3.1 In 2010 zagen we de reclame met “jij kunt echt niet voetballen hè Pietertje”. In 2018 bleef Lieke Martens in de regen voetballen omdat de coach haar vergat te roepen maar voordat zij en Pieter van den Hoogenband in beeld kwamen was er een reclame met Petje Pitamientje. Speel de Calvé Pindakaas reclame met Petje Pitamientje uit 1983 na. Film dit en zet het op de meegeleverde usb-stick.

3.2 Hiervoor kun je al een bekende reclameslogan lezen, deze zijn er bijzonder veel! Hieronder zijn er 5 volledig gehusseld. Wat is het origineel?

3.2.a Emer ijzer aan weg ket ga je ned

Zeg maar nee dan krijg je er twee

3.2.b Vijveren de www en dan een cc adis

Wij van wc eend adviseren wc eend

3.2.c Zeikeron maal lap op kadkeiaa Innllen zangemir


Koning keizer admiraal Popla kennen ze allemaal

3.2.d Hoe kib cit tgk neen

Ik ben toch niet gek

3.2.e Zzee gogo neentje kom meh bib ggd

Ik heb nog zo gezegd geen bommetje






3. RECLAME

3.3 Welke logo's horen niet in het rijtje thuis?

3.3.a



3.3.b




3.3.c



3.3.d



3.3.e



3. RECLAME

3.4 In een goede reclame zit een zin die je bij blijft. In de vorige vragen uit deze categorie heb je er al een aantal kunnen vinden. Hieronder nog een aantal zinnen uit oude reclames. In welke reclame horen deze zinnen thuis?

3.4.a “Greg wil vanavond kousenband eten, maar wie in de buurt heeft dat?”

De Groentespecialist

3.4.b “Maak van elk moment, het gouden moment”

Ferrero Rocher

3.4.c “Ze hebben hem niet alleen veel kleiner gemaakt, maar ook een heel stuk krachtiger”

Dixan 2000

3.4.d “Zo goed, zo veel keuze en toch niet duur”

Spar

3.4.e “Goeiemoggel, 5 kiklo intvip”

KPN



3. RECLAME

3.5 Van welk merk is onderstaande foto een onderdeel van een reclame commercial?

3.5.a



Heinz

3.5.b



Jif

3.5.c



calvé

3.5.d




Grolsch

3.5.e



Koopmans



4. KAARTSPELLEN

4.1 Tegenwoordig zijn er veel verschillende spellen waarin kaarten te vinden zijn. We hebben niet alleen meer de joker of de aas maar we hebben kaarten in veel verschillende vormen en maten. Uit welke spellen komen onderstaande kaarten?

4.1.a



The mind

4.1.d



1000 bommen en granaten

4.1.b



Skullking

4.1.e




Munchkin

4.1.c



Beverbende

4.2 Bouw een kaartenhuis van 4 etages zoals het voorbeeld op de afbeelding (de kaarten hoeven niet hetzelfde te zijn of in deze volgorde). Maak hiervan een foto waarop ook de voorzijde van dit Kwisboek staat. Zet deze foto op de usb-stick. Geef deze foto de naam: vraag 4.2.



4. KAARTSPELLEN

4.3 Welke kaartspellen zitten cryptisch in onderstaande foto's verborgen?



4.3.a



4.3.d

Rikken

Duizenden



4.3.b



4.3.e

Jokeren

Wippen



4.3.c

Pokeren

4.4 Fifa is een heel populair spel. Om de marketing nog meer uit te buiten brengen ze ook elk jaar kaarten uit. Onderstaande vragen gaan over Fifa 21 top 1000.


Vul alleen de ontbrekende naam van de speler in onderstaande tabel in.

Speler	ALG	SNL	SCH	PAS	DRI	VRD	FYS
4.4.a Ederson	-	86	82	93	88	64	86
4.4.b Luuk de Jong	-	55	78	70	69	50	76
4.4.c Maximilian Arnold	79	-	80	-	77	-	73

Wie staat hoger geplaatst in de Ratings 21? Kruis het juiste antwoord aan.

4.4.d Jaume Costa Denzel Dumfries

4.4.e Hans Hateboer Kevin Strootman



4. KAARTSPELLEN

4.5 **Poker, een spel van bluff, of toch ook wiskundig inzicht? Poker wordt op veel plekken in de wereld gespeeld en er zijn spelers die hier ook een mooie boterham mee weten te verdienen.**

4.5.a Luister om 21.30 uur naar radio NOSTOS en beantwoord hieronder de gestelde vraag.


Welke pokerprofessional heeft, naar eigen zeggen, vorig jaar meegedaan met 107 toernooien waarmee hij in totaal meer dan 1,6 miljoen dollar winst heeft gemaakt?

Daniel Negreanu

4.5.b Hieronder staat de top 10 van een pokertoernooi dat vorig jaar gehouden werd. Je ziet alleen niet de namen van de spelers maar de landen waar deze spelers vandaan komen. Welk pokertoernooi zoeken wij?

2022 WSOP main event

1. Noorwegen
2. Australië
3. Argentinië
4. Verenigd Koninkrijk
5. Kroatië
6. Verenigde staten
7. Canada
8. Verenigd Koninkrijk
9. Verenigde Staten
10. Verenigde Staten



5. BEESTJES

- 5.1** Welke beestjes zoeken we? Hieronder zie je 5 stippelijnen, op iedere stippellijn komt de naam van een beestje. Bij elk beestje hebben we de derde letter al ingevuld. Om je nog wat extra te helpen geven we de klinkers en medeklinkers. Al deze letters moeten één keer gebruikt worden.

Medeklinkers: B G G K L L L L L M M N R R R S V
Klinkers: A E E E E E E E E E I I I O O U

5.1.a v l e e r m u i s

5.1.d k a n g o e r o e

5.1.b l i b e l l e

5.1.e m i e r

5.1.c e g e l

- 5.2** Je staat er vast niet bij stil maar er zijn best wat geitensoorten. Hieronder zie je 5 foto's van geiten. Kun je ons vertellen om welke soort het gaat?



5.2.a

Saanengeit of
Nederlandse witte geit



5.2.d

Girgentana geit



5.2.b

vlaamse geit




5.2.e

Nubische geit



5.2.c

Angora geit




5. BEESTJES

5.3 In cartoons en (tekenfilm)series worden vaak beestjes gebruikt. We hebben de ogen eruit geknipt; herken je ze nog? Wat is de naam van onderstaande beestjes?

5.3.a 


Garfield

5.3.d 

Rode kater

5.3.b 


Jolly Jumper

5.3.e 

Bambi

5.3.c 

Bobby



vorstenboschkwist.nl 18



5. BEESTJES

5.4

In het verleden, maar ook nu nog, worden beestjes waargenomen. Maar bestaan ze nou wel of niet? Van enkele waargenomen beestjes werd zelfs gedacht dat ze een bepaalde kracht zouden hebben. Wij hebben hieronder wat fabelbeestjes verzameld. Hoe worden ze genoemd?



5.4.a

Harpý



5.4.d

Anubis



5.4.b

Phoenix / Fenix



5.4.e

Cerberus / Hellehond




5.4.c

Sfinx

5.5

Luister om 20.30 uur naar radio NOSTOS en beantwoord hieronder de gestelde vraag.

32 (Nummer 'Beestjes' van Ronnie en de Ronnies aantal keer beestjes)



6. MODE

6.1 Maak een jurk van plastic zakken. Probeer een zo origineel mogelijk model te maken.



Op de foto een mooi voorbeeld ter inspiratie.
Trek de jurk aan en en kom om 21.30 uur naar
het Mr. Loeffenplein.
Neem het formulier op pagina 70 mee!

6.2 Nederland kent veel bekende ontwerpers. Tot ver buiten onze landsgrenzen zien we ontwerpen uit ons kikkerlandje terugkomen. Beantwoord onderstaande vragen.

6.2.a Van wie is dit ontwerp?



Victor en Rolf

6.2.b Met welke Nederlandse modeketen heeft Frans Molenaar samengewerkt?

C&A

6.2.c Welke Nederlandse modeontwerper heeft een duurzaam en beschermend mondkapje van Evolon ontworpen?

Monique Collignon


6.2.d Hoeveel eigen winkels heeft Marlies Dekkers?

9

6.2.e In een interview heeft de ontwerper van deze jurk verteld wie hem alles geleerd heeft. Wie was deze persoon waarvan hij alles geleerd heeft?




Zijn oma



6. MODE


6.3

Alles is mode, het kan soms niet gek genoeg qua ontwerp, stof, print.
Weten jullie wat je draagt? Hieronder 5 verschillende stofsoorten;
kijk, voel, ruik en noteer om wat voor soort stof het gaat.




6.3.a

Polyester




6.3.b

Jogging




6.3.c

Fleece



6.3.d

Softshell



6.3.e

Fluweel

6.4

Beluister op de site de fragmenten uit interviews met de diverse mode ontwerpers.
Welke ontwerper hoor je praten? <https://vorstenboschkwist.nl/2023-paardindegang.html>


1. Armani

2. Coco Chanel

3. Donatella Versace

4. Karl Lagerfeld

5. Dolce & Gabbana



6. MODE

6.5 Op deze aarde lopen bijna alleen maar mooie mensen. Een enkeling schopt het tot model of zelfs topmodel. Zouden ze als kind zijnde geweten hebben wat ze later wilden worden? Hieronder 5 foto's van modellen in de dop en daarnaast een runway foto. Verbind de jeugdfoto d.m.v. een lijn met de runway foto.

6.5.a.1



6.5.a.2



6.5.b.1



6.5.b.2



6.5.c.1



6.5.c.2



6.5.d.1




6.5.d.2



6.5.e.1



6.5.e.2



7. EROTIEK

LET OP!!! DEZE CATEGORIE KAN ZORGEN VOOR RODE OORTJES! WIJ HOUDEN ONS NIET AANSPRAKELIJK VOOR TINTELINGEN IN HET HOOFD, OPENVALLENDE MONDEN OF WAT DIES MEER ZIJ!

7.1 Sinds het uitkomen van de Fifty Shades of Grey boeken is het genre “erotische roman” mateloos populair. Lectuur met een erotisch tintje is natuurlijk al zo oud als de weg naar Rome. Wie had er niet “Turks Fruit” op zijn / haar leeslijst op de middelbare school? Luister naar de fragmenten op de site: uit welke boeken wordt er voorgelezen (titel + schrijver)?

7.1.a De Paardenfluisteraar – Nicholas Evans

7.1.b Gesloten hart – Sylvia Day

7.1.c Fifty Shades – E.L. James

7.1.d Nieuwe burenen – Saskia Noort

7.1.e Komt een vrouw bij de dokter – Kluun

7.2 Wat eveneens zo oud is als de weg naar Rome is de Kamasutra. Beetje lenigheid en kracht is er voor vereist maar naar het schijnt zorgt het voor ongekende hoogtepunten. Wij zouden het niet weten, jullie wel? Hieronder staan vijf Kamasutra omschrijvingen; welk standje zoeken we?

7.2.a De man grijpt zijn partner bij haar dijen vast en heft haar op. Zij steunt hierbij goed op haar handen. Het lijkt een beetje op de kruiwagen en is vrij vermoeiend.


De Indische Perenboom

7.2.b De man ligt met zijn buik op zijn partner, wel met zijn hoofd in richting van haar voeten. De vrouw legt hierbij haar handen op zijn billen die hij op zijn beurt rond gaat draaien. Een show van 360 graden!

De Liefdespropeller

7.2.c De man ligt op zijn rug, de vrouw bovenop. Met hulp van de vrouw zet de man zich recht en zij klemt haar benen rond zijn middel ter hoogte van zijn borstkas. De man ondersteunt haar benen waardoor hij zijn partner naar zich toe kan trekken. Er is oogcontact en er kan gekust worden.

De spin



7. EROTIEK

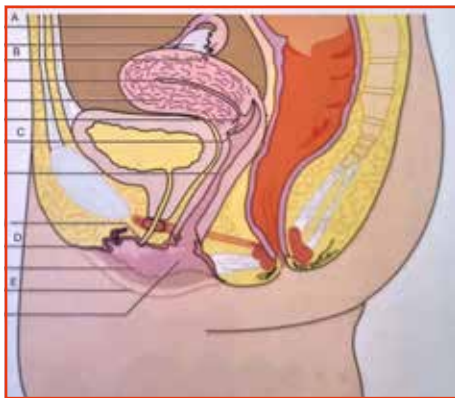
- 7.2.d De man zit met gestrekte benen op bed. De vrouw zet zich op haar knieën voor de man neer. Als ze comfortabel zit, buigt ze naar achter en legt zich tussen de benen van de man. De man houdt haar vast bij haar middel, buigt naar voren en penetreert de vrouw.

De triomfboog

- 7.2.e De vrouw staat op een kruk, hurkt en zij laat haar ellebogen rusten op haar knieën. De man staat achter de vrouw en bepaalt het ritme. Erg moeilijk maar wel stimulerend!

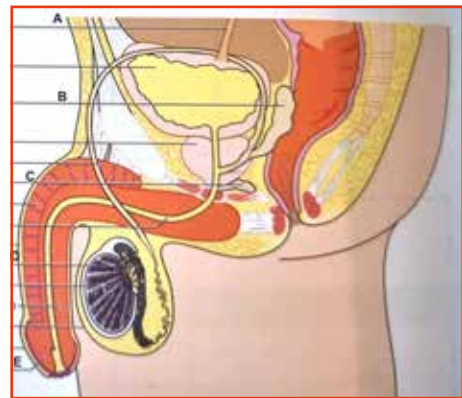
De millennium uitdaging

- 7.3 **Biologie.** Voor de een een fantastisch schoolvak, de ander laat het zo snel als het kan vallen. Een stukje "menselijk lichaam" ontkomt echter niemand aan. Kunnen jullie invullen wat er op de lijnen hoort te staan?



7.3.a

- A. eileider/tuba/ovidact
B. trechter
C. baarmoedermond/cervix
D. clitoris
E. grote schaamlip



7.3.b

- A. urineleider
B. zaadblaasje
C. Klier van Cowper
D. bijbal
E. eikel



7. EROTIEK

7.4

Zojuist heb je geluisterd naar fragmenten uit diverse boeken met een erotisch tintje en gezocht in de eeuwenoude Kamasutra. Maar seks is natuurlijk niet alleen op schrift te vinden. Ook de filmindustrie maakt er veelvuldig gebruik van. Gelukkig want waar waren we geweest zonder "Oh buurman, wat doet u nu?" Hieronder vind je wat stills uit films. Weet je in welke film ze thuishoren?



7.4.a



7.4.d

Brokeback Mountain



7.4.b

Fifty Shades of Grey



7.4.e

Oesters van Nam Kee




7.4.c

Friends with Benefits

Sliver

7.5

Better safe than sorry! Maak een filmpje waarin duidelijk wordt uitgelegd en voorgedaan hoe je een condoom op een correcte wijze om een banaan/komkommer of aubergine doet. Zet dit filmpje van max. 30 seconden als 7.5 op de usb-stick.



8. MUZIEK

8.1 Klassieke muziek. Vaak een ondergeschoven kindje. Maar wisten jullie dat veel muzikanten klassieke stukken gebruiken als ondersteuning in eigen nummers? Luister naar de 5 fragmenten op de website en geef aan welk klassiek stuk er gebruikt is (LET OP: het klassieke gedeelte hoeft niet in het fragment te zitten).

8.1.a Ruffneck rules the artcore scene – Juggernaut
(klassiek: in der Halle des Bergkönigs)

8.1.b The power of the dark side – DJ Paul Elstak
(klassiek: Star Wars Main Theme)

8.1.c One Way Out – Jerry Lee vs Power T
(klassiek: Notenkrakersuite Tsjajkowsky)

8.1.d I can't help falling in love with you –
(klassiek: Plaisir d'Amour Jean-Paul-Egide)

8.1.e They – Jem (klassiek: Prelude in F minor –
Johann Sebastian Bach) **DEZE VRAAG TELT NIET MEE**

8.2 Heb je ooit gekeken naar The Masked Singer? Maanden speculeren welke BN'ers er nou in de fantastische gemaakte pakken zaten. Ook wij kunnen niet om de populariteit van dit programma heen. Bekijk de fragmenten op de site en vertel ons; wie zitten er in de pakken?


8.2.a Jil Bos (stekelvarken)

8.2.b Rita vloet (baby)

8.3 Wij zijn benieuwd naar jullie muzikale kennis. Hoe goed kennen jullie de instrumenten? Ga naar de website en luister de fragmenten. Welk instrument hoor je?

8.3.a cello

8.3.b melodica



8. MUZIEK

8.4 Victoria's Secret had tot enkele jaren terug jaarlijks een waanzinnige show waar de collectie geshowd werd door prachtige modellen en welke show muzikaal ondersteund werd door wereldartiesten. Enkele van deze prachtige modellen vind je terug in vraag 6.5. Op welk nummer liepen zij op de runway ten tijde van het maken van de gebruikte foto. Vul de naam van het model in met daarachter het liedje.

8.4.a Bella = Starboy

8.4.d Candice = Yeah

8.4.b Tyra = Bang Bang

8.4.e Behati = Trouble

8.4.c Naomi = Dirt off your Shoulder

8.5 Volendam is een zeer muzikaal dorp. Vele hitjes zijn gemaakt in dit vissersdorpje. Maar kennen jullie ook de hit "als een paling boven water" van Jeff? Jeff verwijst in zijn lied naar verschillende liedjes van Nick en Simon. Schrijf hieronder 5 titels waarnaar verwezen wordt.


1. Pak maar m'n hand

4. De Soldaat

2. Kijk omhoog

5. Steeds weer

3. Diamanten Ringen



9. SPORT

- 9.1.a Deze Coureur heeft in 2017 een uitstap gemaakt om een wedstrijd te rijden op een ander continent. Een wedstrijd in een competitie waar de coureur niet eerder reed. Hij won beide heats zelfs nadat hij in de 2e heat op een gegeven moment helemaal achteraan reed. Wie was deze coureur?

Jeffrey Herlings

- 9.1.b Wat was de reden dat deze coureur meedeed met de desbetreffende wedstrijd?

Hij kreeg materiaalpech tijdens zijn eigen race waardoor hij geen kans meer had op de titel.

- 9.2 **Sporters heb je in veel disciplines en spelend op verschillende niveaus. Hieronder staan omschrijvingen van 5 sporters. Welke (oud-)sporters zoeken we?**

- 9.2.a Deze oud-speler van het eerste is nog steeds actief bij de Vorstenbossche Boys. Deze linkschoot heeft in de afgelopen jaren met zijn team ook nog een kampioenschap mogen vieren. Zijn vader was voorheen lid van het jeugdbestuur. De bijdrage van zijn moeder is te vinden op de site van de boys.

Wesley van de Ven

- 9.2.b Deze Zweed heeft zijn gehele carrière voor Europese teams gespeeld. In dit team speelt hij zijn wedstrijden met 4 teamgenoten. Hij is onlangs teruggekomen bij het team waar hij het grootste gedeelte van zijn carrière speelde. Hij is 4x MVP geweest in de hoogste Europese competitie. Verder is hij 2e geworden op het wereldkampioenschap van 2018 wat zijn beste resultaat daar is. Je kunt hem herkennen door zijn tatoeages welke op een groot deel van zijn lichaam te vinden zijn.

Carl Martin Erik Larsson (Rekkles)

- 9.2.c Deze Brabander is in de jaren '90 een keer verkozen tot beste speler in zijn sport. In dat zelfde jaar werd hij op het wereldkampioenschap voor clubteams verkozen tot beste speler van het toernooi. In totaal speelde hij 28 interlands waarvan de wedstrijd tegen België in 1988 zijn eerste was. Buiten deze sport om heeft de beste man echter nog een geheel andere carrière opgebouwd waaraan het grootste deel van Nederland hem zal herkennen. Hierdoor is hij ook nog regelmatig te zien op tv.

John de Bever



9. SPORT

9.2.d Deze speelster speelt bij een Brabantse club en is vorig jaar landskampioen en wereldkampioen met Jong Oranje geworden. Toch zou ze niet rond kunnen komen van het salaris wat ze bij haar club verdient. Dit steekt ze niet onder stoelen of banken en ze is hier zeer eerlijk over. Ze maakt het vergelijk met haar vriend die ook topsporter is en die een stuk makkelijker rond zou kunnen komen. Haar grootste inkomstenbron is nu dan ook vanuit deals via social media.

Noor Omrani

9.2.e Deze positieveling is niet altijd voor Nederland uitgekomen. Hierdoor komt het dat hij zijn beste Olympische resultaat niet heeft behaald onder de Nederlandse vlag. Hij is meer dan 7.000 km hiervandaan geboren. Op dit moment heeft hij 2x een Nederlands nationaal record in handen.

Churandy Martina

9.3 **Lekker actief! Maak met 3 teamleden een CrossFit-video van 1 minuut:**

- 1 persoon voert gedurende 1 minuut zo veel mogelijk correct uitgevoerde “BURPEES” uit;
- 1 persoon voert gedurende 1 minuut zo veel mogelijk correct uitgevoerde “AIR SQUATS” uit;
- 1 persoon voert gedurende 1 minuut zo veel mogelijk correct uitgevoerde “PUSH UPS” uit.

De oefeningen worden door de 3 teamleden tegelijk naast elkaar gedurende 1 minuut uitgevoerd in 1 video. Zorg dat alle (!) oefeningen goed op beeld staan zodat de correct uitgevoerde herhalingen geteld kunnen worden voor de score!

De **burpee** moet je als volgt uitvoeren:

1. Sta rechtop.
2. Buig je benen naar een squat-positie.
3. Zet je handen op de grond.
4. Spring met je voeten naar achter in plankpositie.
5. Breng borst naar de grond en duw jezelf weer naar een plank.
6. Spring terug richting een squat en spring omhoog.


De **air squat** moet je als volgt uitvoeren:

1. Zak langzaam door je knieën, totdat je een gehurkte houding hebt bereikt. Dit is, als je de houding hebt die te vergelijken is wanneer je op een stoel of bank gaat zitten.
2. Strek je armen recht vooruit tijdens de dalende beweging. Hiermee wijs je met je handen recht vooruit.

3. Zorg tijdens het zakken dat je lichaamsgewicht je hielen belast.
4. Zak zo ver mogelijk, totdat je in een rechte verhouding met de grond bent. Dit is het diepste punt van de oefening.
5. Strek je benen nu weer langzaam en beweeg je armen naar je lichaam tijdens het strekken.

De **push-up** moet je als volgt uitvoeren:

1. Begin in een hoge plankpositie, met je voeten iets breder dan heupbreedte uit elkaar. Dit geeft je meer stabiliteit. Rol je schouders een klein beetje naar achteren en span je goed aan.
2. Terwijl je jezelf laat zakken, zorg je ervoor dat je ellebogen naar je voeten wijzen en je je bovenarmen dus langs je lichaam hebt. Duw jezelf dan weer omhoog vanuit je handen.
3. Je mag dus geen push-up doen op je knieën, je moet het als een plank uitoefenen.



9. SPORT


9.4

De Nederlandse medailleregen van Tokyo. Tijdens de afgelopen Olympische Zomerspelen won het Nederlandse equipe een recordaantal van 36 medailles.

Uit onderstaande achternamen van de Nederlandse medaillewinnaars komen 13 letters (3 woorden). Puzzel daarna hieruit de oplossing.

1. De 4e letter van de 3e behaalde Olympische medaille
2. De 2e letter van de laatst behaalde Olympische medaille
3. De op-één-na-laatste letter van de 24e behaalde Olympische medaille
4. De 1e letter van de 27e behaalde Olympische medaille
5. De laatste letter van de 34e behaalde Olympische medaille
6. De 1e letter van de 29e behaalde Olympische medaille
7. De 3e letter van de 16e behaalde Olympische medaille
8. De 7e letter van de 28e behaalde Olympische medaille
9. De 1e letter van de 26e behaalde Olympische medaille
10. De 4e letter van de 18e behaalde Olympische medaille
11. De 2e letter van de 14e behaalde Olympische medaille
12. De op-één-na-laatste letter van de 17e behaalde Olympische medaille
13. De laatste letter van de 10e behaalde Olympische medaille

Chef de Mission



9. SPORT

9.5

Hieronder vind je verschillende legendarische momenten uit de sportgeschiedenis. Welk moment zie je hier en in welk jaar vond dit plaats?



9.5.a

Ali (Cassius Clay) tegen Foreman in 'The Rumble of the jungle' - 1974




9.5.d

Eerste voetbal profwedstrijd gespeeld tussen Alkmaar en Venlo - 1954



9.5.b

Borg tegen McEnroe op Wimbledon - 1980




9.5.e

Abebe Bikila wint de Olympische marathon in Rome op blote voeten - 1960



9.5.c

Fanny Blankers-Koen wint 4x goed in Londen olympische spelen - 1948



10. SNOEP

10.1 Op radio, televisie, langs de weg; overal kom je reclames tegen. Zo ook over snoep. Bekijk de filmpjes op de site. Voor welk snoep(merk) wordt er reclame gemaakt?

10.1.a cadbury's caramel

10.1.d Haribo

10.1.b Milky way


10.1.e Mars

10.1.c Rolo

10.2 Knibbel, knabbel, knuisje... Maak een huisje van snoep. In de Kwistas die jullie mee hebben gekregen bij het ophalen van het Kwisboek zit een gebaksdoos, zorg ervoor dat het door jullie gemaakte snoephuisje past in deze gebaksdoos en lever het snoephuisje in tegelijk met het 'kwistboek.

10.3 Luister om 19.30 uur naar radio NOSTOS en beantwoord hieronder de gestelde vraag.

(SNOEPPOT!!) Aantal snoepjes: 510



10. SNOEP

10.4 Snoep is van alle tijden. Hieronder zien jullie enkele foto's, welke "snoepjes van vroeger" zijn hierop afgebeeld?



10.4.a

Zoethout



10.4.b

Manna / gepofte rijst



10.4.c

Haverstro



10.4.d

Glühwein hartjes




10.4.e

Salmiak / anijsbrokken

10.5 Luister om 22.30 uur naar radio NOSTOS en beantwoord de gestelde vraag.

De een speelt het misschien iedere dag, de ander eens in de zoveel tijd of misschien heb je er nog nooit van gehoord: Candy Crush. Speel level 7. Film hoe het level door een van jullie teamleden gehaald wordt en zet dit filmpje op de usb-stick.



11. VERKEER

11.1 In 2022 en 2023 vond er een grote renovatie plaats van de Kerkstraat.
Kunnen jullie onderstaande vragen beantwoorden?

11.1.a Niet alleen de Kerkstraat werd volledig afgesloten, maar ook nog andere straten in ons dorp.
Tijdens deze periode werd ook een gedeelte van de Broekkant afgesloten? Noem die periode.

5 t/m 9 september 2022

11.1.b Tijdens de renovatie sloot Slagerij Van de Tillart even haar deuren. Voor welke periode was dat?

2 t/m 7 januari 2023

11.1.c Niet alleen het wegdek werd vernieuwd, er werd nog meer onderhoud gepleegd.
Wat werd er ook helemaal vernieuwd?

Riolering


11.1.d Uit hoeveel fases bestond de renovatie van de Kerkstraat?

4

11.1.e Zie hieronder de foto van een verkeersdrempel plateau. Hoeveel van deze hele elementen werden er geplaatst tijdens de herinrichting Kerkstraat Vorstenbosch?



Aantal: 41



11. VERKEER


- 11.2** Vorstenbosch is een aantal keer verkozen tot Kern met Pit. Daar zijn we uiteraard trots op! Er hing aan het begin van Vorstenbosch een bord waarop stond; Kern met Pit. Wij zijn op zoek naar een nieuw verkeersbord voor Kern met Pit. Zie hieronder de afbeelding. Ontwerp en maak een nieuw bord voor Kern met Pit. Lever dit bord tegelijk met het Kwisboek in.



- 11.3** In Nederland moet je auto eens in het jaar een APK. Komt je auto door de keuring mag je weer een jaar de weg op, maar het kan ook zijn dat je auto wordt afgekeurd. Op de site zie je twee filmpjes van auto's die zijn gekeurd. Zijn ze goedgekeurd of afgekeurd?

11.3.a Goedgekeurd

11.3.b Afgekeurd



11. VERKEER

11.4 In Nederland kom je diverse verkeersborden tegen. Een ervan staat hieronder afgebeeld.



11.4 Wat betekent dit bord?

Het maakt duidelijk welke milieuzone je mag inrijden. In paarse milieuzones zijn alleen dieselvrachtauto's toegestaan met minimaal emissieklasse 6. Dieselvrachtauto's met emissieklasse 5 en lager mogen hier niet in.

11.5 Iedereen met een rijbewijs heeft het verkeersexamen gedaan. Test hieronder je kennis.

11.5.a



Het meisje wacht al bij een voorrangskruising. De vrachtauto komt er later naast staan. Wat moet het meisje doen?

Blijven staan, de chauffeur heeft haar gezien


11.5.b



De fietsers willen rechtdoor. Het blauwe busje wil de rotonde verlaten. Wat is waar?

1. De fietsers moeten voorrang krijgen want zij komen van rechts.
2. De fietsers moeten voorrang krijgen want rechtdoor op dezelfde weg gaat voor.
3. de fietsers moeten voorrang krijgen want er staan haaiantanden.

nummer 3 is juist



11. VERKEER

11.5.c



Puck, Sam en Danny willen links afslaan.
Wie fietst op de goede plaats?

Danny

11.5.d



Wat vertelt dit verkeersbord aan de vrouw op de fiets?

Pas op! Er kunnen kinderen oversteken

11.5.e



De vrachtauto staat hier al te wachten en wil rechts afslaan.
Er komt een fietser aanfietsen en deze wil ook graag rechtsaf.
Waar moet de fietser gaan staan?


Rechts ver achter de vrachtauto



12. VORSTENBOSCH

12.2 Oud Vorstenbosschenaren


12.2.a Wat zijn de voornamen van deze vier mannen?



Hendrikus



Henk (hendricus)




Harry (henricus)



Lubertus

12.2.b Wat hebben deze mannen met elkaar gemeen?

Zijn allemaal pastoor



12. VORSTENBOSCH

12.3 Welk adres hoort bij het huis op het plaatje of het omcirkelde huis?

12.3.a



12.3.d



Tijpweg 15

Oudeveghelsedijk 10

12.3.b



12.3.e



Bijstenveld 15

Kattenberg 9

12.3.c



De Helling


12.4

Welke patroonheilige werd in de jaren 60 voor het laatst jaarlijks met een processie in het dorp vereerd, op welke dag in het jaar, en waarvoor?

Wie? Heilige Cunera

Wanneer? Op 24 juni of de zondag ervoor

Waarvoor? Als patrones van het vee of tegen veeziekten



12. VORSTENBOSCH

12.5 Droevige dood van vroegere dorpsbewoners. Hieronder vind je een aantal voorvallen van dorpsbewoners die op tragische wijze om het leven zijn gekomen vul de ontbrekende gegevens in.

12.5.a In 1923 is er iets gebeurd op de Derptweg.

Met wie is er iets gebeurd? Willem van de Heijden

Wat is er gebeurd? doodgestoken op de Derptweg

12.5.b Iemand is er gesneuveld tijdens een militaire actie.

Wie was dit? Jo Loeffen

Waar was dit? Indonesië

In welk jaar was dit? 1947

12.5.c In 1951 komt er iemand door een ongeluk om.

Wie kwam er om? Zuster Adelarda Gijbers

Waarom kwam ze om? auto ongeluk

Met wie kwam ze om? 2 zussen

12.5.d Er komen 2 kinderen om vlak bij huis in 1918.

Wie waren deze kinderen? Gerarda en Frans Ruijs


Hoe oud waren ze? 3 tot 5 jaar

Waarom kwamen ze om? Zakken door het ijs en verdrinken

12.5.e In 1900 dronk iemand te veel en komt te overlijden.

Wie overlijdt er? Rut Kluijtmán


Waardoor? komt dronken onder de tram
in Veghel



13. KINDEREN

13.1 Wie heeft ze vroeger niet verzameld: flippo's van Smiths. Wist je dat de flippo's ook punten waard waren? Kijk maar eens achterop. Lever flippo's in ter waarde van precies 10 punten en stop deze in een zakje bij het Kwisboek. Mocht je de flippo's later nog terug willen geef dit dan aan.

13.2 Wat was jouw lievelingsboek toen je klein was? Of dat is het misschien nog steeds wel. Uit welk boek werd je zelf graag voorgelezen of worden je (klein)kinderen nu voorgelezen? Ieder heeft zijn eigen voorkeur en feit is dat er onnoemelijk veel kinderboeken zijn. Uit welke kinderboeken komen onderstaande bladzijdes?




13.2.a

Rupsje Nooitgenoeg



13.2.b


Pinkeltje en zijn vriendjes
(1949)



13. KINDEREN

13.3

We begrijpen dat tijdens het maken van deze Kwis een moment van rust nodig kan zijn. Daarom hieronder een kleurplaat. Kleur de kleurplaat volledig in binnen de lijntjes en gebruik de juiste kleur bij het juiste cijfer.




1-blauw

2-groen

3-grijs

4-roze



13. KINDEREN

13.4 Hieronder een aantal foto's van kind sterren. Kunnen jullie ons vertellen om wie het gaat?



13.4.a

Britney Spears



13.4.b

Travis Tedford



13.4.c

Lindsey Lohan




13.4.d

Danny de Munk



13.4.e

Zac Efron



13. KINDEREN

13.5 Memes zijn stukjes cultuur die snel en gemakkelijk verspreid, gedeeld en geconsumeerd worden via een medium, zoals het internet. Je hebt deze in verschillende soorten en maten. Hieronder staan 5 foto's van personen die vroeger in een meme gebruikt werden. Wat is de naam van de meme waar ze in stonden?



13.5.a

Success kid



13.5.d

Side eye Chloe



13.5.b

Disaster girl




13.5.e

Good Guy Greg



13.5.c

Bad Luck Brian



14. AARDRIJKSKUNDE

14.1 Op Google streetview is veel te vinden. Wij zijn op zoek naar de onderstaande 5 dingen. Maak een screenshot en upload deze op de usb-stick onder het nummer van de subvraag. Bij het roze voertuig dus bijvoorbeeld 14.1d.

14.1.a Een vrouw die aan het paardrijden is

14.1.d Een roze voertuig

14.1.b Een standbeeld van een hond

14.1.e Een persoon met een voetbalshirt van een eredivisieteam

14.1.c Een voetbalwedstrijd die bezig is

14.2 Op Geoguessr.com kun je testen hoe goed jouw kennis is van Nederland. Je komt ergens terecht op een willekeurige plek in Nederland waarna je uit moet zien te vinden waar je precies bevindt. Maak een account aan waarin jouw teamnummer in de nickname voorkomt. Zoek op Netherlands en klik op play. Selecteer Single Player en druk op START GAME! Hierna kom je op 5 verschillende plekken terecht waarbij je telkens op het kaartje rechts zo specifiek mogelijk moet aangeven waar je bent. Probeer hierbij zoveel mogelijk punten te halen. Maak een screenshot van jullie eindscore waarbij heel duidelijk de totaalscore en de nickname te zien is. Voeg deze afbeelding toe op de usb-stick met als naam 14.2.

14.3 Zowel in de natuur als in de stad komen we ze overal tegen: stenen. We hebben hier veel verschillende soorten en maten in. Maar waar worden deze stenen nu van gemaakt en wat voor een soort stenen zijn het? Dat willen we van jullie weten. Vul bij de onderstaande 5 stenen in wat voor een soort het is en waar ze voor meer dan 50% uit bestaan. Kies per steen 2 begrippen uit de onderstaande lijst.

Stolling – Metamorf – Sediment – Kalk – Zand (kwarts) – klei


14.3.a Kalksteen: Sediment – kalk

14.3.b Marmer: Metamorf – kalk

14.3.c Schist: Metamorf – klei

14.3.d Leisteen: Metamorf – klei

14.3.e Zandsteen: Sediment – zand



14. AARDRIJKSKUNDE

14.4 In Azië wordt veel gebruik gemaakt van de grond voor onder andere palmolie en thee. Onderstaande vragen gaan over Azië en zijn door de jaren heen in eindexamens gesteld.

14.4.a Wat zijn de mondiale ontwikkelingen betreffende een grotere vraag om palmolie? Noem er één.


1) de groei van de wereldbevolking 2) de mondiale groei van de welvaart 3) de toename van het gebruik van biobrandstof uit palmolie (als alternatief voor fossiele brandstof)

14.4.b Op Aziatische eilanden zijn vaak palmolieplantages te vinden. Echter op Java bijna niet. Hoe komt dit?

Op Java is weinig beschikbare ruimte voor oliepalmplantages / een hoge bevolkingsdruk.

14.4.c Het kappen van bomen komt vaak voor. Zo ontstaat er ruimte voor verschillende soorten plantages. Door het kappen ontstaat landdegradatie. Welke vorm van landdegradatie is dit?

(bodem)erosie




14. AARDRIJKSKUNDE

14.4.d Hoe hebben ze op onderstaande foto rekening gehouden met landdegradatie? Geef twee antwoorden.



- De theeplanten staan parallel aan de hoogtelijnen.
- De theeplanten staan dicht op elkaar (zodat de hele bodem bedekt is).



14. AARDRIJKSKUNDE

- 14.5** Er zijn in Europa nog veel steden waar wij niet van hebben gehoord. In het kaartje hebben vijf van deze steden een kleur gekregen. Zet naar aanleiding van onderstaande beschrijving de goede naam van de stad bij de goede letter.



- 14.5.a** Wit; stad met 88 woonkernen en heeft 69 afgevaardigden voor het parlement.

Bremen

- 14.5.d** Paars; beste luchtkwaliteit van Europa. Beeldenpark met 33 sculpturen

Umea

- 14.5.b** Blauw; vierde stad van het land en won 2 keer de voetbalbeker van hun land.


Miskolc

- 14.5.e** Groen; Het bekendste museum is in 1915 opgericht. Voetbalclub ging failliet in 2014

Craiova

- 14.5.c** Rood; oorsprong stadsnaam niet duidelijk. In 1489 werd de rechtbank opgericht in de stad.

Valladolid



15. BEROEPEN

15.1 Welke Vorstenboschenaar beoefent het onderstaande beroep of voert onderstaande functie uit?

15.1.a Asbest inventarisatie Marcel v.d. Zanden

15.1.b Patholoog Rob Vogels

15.1.c Nutritionist Arno van de Burgt

15.1.d Afdelingsmanager van het Catharina Kanker Instituut Susan van den Heuvel

15.1.e Rijschoolhouder Pieter van Vliet

15.2 Welke gereedschappen zie je hieronder?



15.2.a

Wiegmesses




15.2.b

Beschuitsnijmachine

15.3 Noem 2 oude beroepen die ook een soort kever zijn.

15.3.a Letterzetter / Schrijvertje / Soldaatje

15.3.b Doodgraver / Wever / Houthakker



15. BEROEPEN

15.4 Wat is het huidige beroep of de betaalde functie van de onderstaande leden van de Kwis commissie?

15.4.a Inge van der Pas Clientondersteuner voor mensen met een beperking

15.4.b Monique Verkuijlen Sociale projectcoördinator

15.4.c Inge klomp Re-integratie adviseur / ambulante begeleider

15.4.d Roel van Groesen Consultant supply chain

15.4.e Sylvia van de Leest Juridisch secretaresse

15.5 Welk beroep beoefent de persoon op de onderstaande foto's op dit moment?



15.5.a

Burgemeester (van Groningen Koen Schuiling)



15.5.d

Cabaretier/stand up comedian
.....(Daniel Arends).....



15.5.b

President (van Duitsland Steinmeier).....




15.5.e

Tatoeëerder (Henk schiffmacher).....



15.5.c

Aartsbisschop (Willem Eijk).....



16. ETEN EN DRINKEN

16.1

Na zo'n lange tijd lock down gaan we met z'n allen weer graag een hapje eten. Op onderstaande foto's staan gerechten die op de kaart staan bij Nederlandse restaurants die zo uitzonderlijk goed eten serveren dat zij 2 of 3 Michelin sterren hebben. Bij welk restaurant horen deze gerechten?



16.1.a

de Librije



16.1.d

Pure C



16.1.b

Restaurant aan de Poel




16.1.e

Tribeca



16.1.c

Restaurant t'Nonnetje



16. ETEN EN DRINKEN

16.2 Diëten zijn er talloos. De een zweert bij Weight Watchers, de ander bij Shakes. Er is altijd wel iets wat bij je past. In Vorstenbosch zijn er een heleboel mensen geweest die het dieet E.G.A. hebben gevolgd, beantwoord onderstaande vragen over dit specifieke dieet.

16.2.a Noem 3 van de 8 clubcondities.


1. Sla nooit maar dan ook nooit een maaltijd over
2. Haal geen voedingsmiddelen weg of voeg geen voedingsmiddelen toe, die niet in de eetwijzer vermeld staan.
3. Weeg alle voedingsmiddelen af, die met hoeveelheden zijn aangegeven.
4. Vlees, gevogelte, vis en eieren nooit bakken of braden met boter, olie of vet.
5. U kunt uw vlees grillen, of in de Tefalpan, braadzak, folie, stoofpan of op de Pan-fit vel klaarmaken.
6. Ontvet het vrijgekomen sap uit vlees, vis of gevogelte.
7. Juspoeder: alleen naturel is toegestaan
8. Alle dieetproducten, met uitzondering van plantaardige boter, zijn niet toegestaan

16.2.b Welke vleessoort uit groep 1 moet eenmaal per week gegeten worden bij lunch of diner?

Lever

16.2.c Wat zijn de ingrediënten, zoals beschreven in het E.G.A. receptenboek, voor het gerecht gemarineerde lever (voor een vrouw)?

1. 135 gram lever
2. 50 gram ui
3. 15 gram olie
4. 15 gram bloem
5. 15 gram ketjap
6. 10 gram wijn azijn
7. aroma
8. peper zout
9. knoflook



16. ETEN EN DRINKEN

16.2.d Hoeveel kilo is Mien van de Gun in de eerste week dat zij het E.G.A. dieet deed afgevalen?

5,5 kilo

16.2.e Van de groenten uit groep 1 moet je iedere dag 125 gram gebruiken. Niet meer, maar ook niet minder! Waarom zijn deze groenten van groot belang voor een goede werking van onze lichaamsfuncties?

1. het stimuleren van de stofwisseling
2. het op pijl houden van het aantal rode bloedlichaampjes
3. het regelen van de bloedsuikerspiegel en het ijzerniveau in het bloed

16.3 Kunnen jullie ook niet wachten tot de zomer? Zon, terras, lekker koud pilsje of natuurlijk een heerlijke cocktail. Hieronder staan de ingrediënten voor diverse cocktails. Welke cocktails krijg je als je deze ingrediënten mengt?

16.3.a Trojka, Likeur 43, Bacardi Lemon, Smirnoff, Passoa, Fanta en ijs

Natte Adrië

16.3.b Limoen, Cachaca, ijs en suiker

caipirinha

16.3.c Wodka, sinaasappel likeur, cranberry sap, limoensap, ijsblokjes en een schijfje limoen


Cosmopolitan

16.3.d Limoensap, sinaasappel, Blue Curaçao, Wodka, ijsblokjes en 7-up

Blue Lagoon

16.3.e Wodka, suiker, limoen en honing

Dawa cocktail



16. ETEN EN DRINKEN

16.4

De schijf van 5 en de maaltijdschijf zijn al vele jaren bekend en actief in Nederland. In al die jaren zijn er verschillende schijven geweest. In welke periode werd onderstaande schijf geïntroduceerd?



1981

16.5


Onze pronkzittingen. Ieder jaar een groot feest! 5 dorpsgenoten hebben ons verteld dat ze er de laatste zaterdag bij aanwezig waren en enorm genoten hebben. Tijdens deze avond hebben zij flink wat gedronken, zoals je hieronder kunt zien. Reken uit hoeveel geld onze 5 dorpsgenoten deze avond kwijt waren voor de genoten consumpties.

5 x koffie
4 x thee
16 x bier
5 x rode wijn

7 x witte wijn
4 x Erdinger
8 x Bacardi Cola

Muntprijs was 2,40 per munt. Koffie/thee $\frac{1}{2}$ munt, consumpties 1 munt, wijn + speciaal bieren $1 \frac{1}{2}$ munt, Mixdrank + Erdinger 0,5l 2 munten

totaalprijs: $10,80 + 38,40 + 43,20 + 19,20 + 38,40 = 150,00$



17. OP STRAAT

- 17.1** Ons mooie dorp in de spiegel. Zie hieronder 5 foto's gemaakt vanuit de auto. Maak de foto na op exact dezelfde plek waar de oorspronkelijke foto is genomen, maar niet in de autospiegel. Zet deze op de usb-stick.



17.1.a



17.1.d



17.1.b




17.1.e



17.1.c

- 17.2** Maak een fotocollage van 6 verschillende foto's. Zet op de achterkant van de collage jullie teamnummer en lever deze tegelijkertijd met het Kwisboek in. We willen graag foto's van:

- 3 teamleden bij een geboortebord in Vorstenbosch
- 1 teamlid bij het kom-bord Vorstenbosch
- 2 teamleden met allemaal een Vorstenbosch Pierke in de hand (van de carnavalsclub)
- 3 teamleden op een Vorstenbosch speeltoestel op een openbaar (!) terrein
- 3 teamleden met allemaal een verschillend tenue van een vereniging uit Vorstenbosch
- 1 teamlid bij de molen van Vorstenbosch



17. OP STRAAT

17.3 Wandelend door Vorstenbosch zijn er in verschillende (voor)tuinen beelden te zien. Hieronder ziet u vijf foto's van beelden op welk adres zijn ze te vinden?

17.3.a



Kerkstraat 28A

17.3.d



Peelstraat 4

17.3.b



Heiveld 41

17.3.e




Hondstraat 19

17.3.c



Binnenveld 51



17. OP STRAAT

17.4

Ieder jaar wordt het tweede weekend van januari een nieuw jeugdtrio, een nieuwe raad van elf en een nieuwe raad van toezicht gekozen om samen met het grote trio tijdens carnaval te regeren over het Pieregat. Voor groep 7 een heel spannend moment. Dit was dit jaar niet anders. Hieronder ziet u 5 foto's van ramen waarachter posters hangen van de trotse kinderen uit de raad van toezicht of de raad van elf 2023. Wat is de naam van de jongen of het meisje wonend op het adres waar de foto genomen is?




17.4.a

Oude veghelsedijk 12 (Dide)



17.4.d

Kapelstraat 10 (Sil)



17.4.b

Binnenveld 30 (Jess)




17.4.e

Korenakkers 14 (Milou)



17.4.c

Heiveld 32 (Suze)



17. OP STRAAT

17.5 Is het weleens opgevallen hoeveel dierenweitjes ons dorp kent? Wij hebben er in ieder geval 5 kunnen vinden. Jullie ook? Noem het adres waar de foto is gemaakt.



17.5.a

Kampweg 2



17.5.d

Oude veghelsedijk 43a



17.5.b

Watersteeg 1




17.5.e

Broekkant 6



17.5.c

Hondstraat 32




18. REKENEN

- 18.1** 100 teamcaptains worden bij elkaar geroepen in een ruimte. Ze krijgen het volgende te horen: In de volgende ruimte staan 100 dozen. De dozen zijn genummerd van 1 t/m 100. Elke doos bevat een quizboek met daarop het teamnummer. De nummers op de dozen hoeven echter niet overeen te komen met het nummer van het quizboek dat in de doos zit. De teamcaptains moeten 1 voor 1 de ruimte in en mogen vervolgens 50 dozen per persoon openmaken. Als alle teamcaptains erin slagen om een doos te openen met daarin het quizboek met hun nummer mogen ze meedoen aan de quiz. Als er ook maar 1 teamcaptain niet het quizboek pakt met het eigen teamnummer worden ze allemaal gediskwalificeerd. Voordat de teamcaptains naar binnen gaan mogen ze samen nog wel overleggen. Hoe kunnen ze ervoor zorgen dat de kans meer dan 30% is dat ze allemaal het juiste quizboek pakken.

Willekeurige dozen openmaken en naar de doos gaan met het nummer wat op het quizboek staat gaan.

- 18.2** De normale Sudoku kennen we allemaal. We wilden het dit jaar echter een stukje moeilijker maken. Bij onderstaande Sudoku gelden de normale regels nog steeds. Alleen nu mogen de nummers 1 t/m 9 ook nog maar 1x gebruikt worden in de gekleurde vierkanten.

4	2	3	6	9	1	7	5	8
9	8	7	2	3	5	4	6	1
6	5	1	4	8	7	9	3	2
5	6	9	3	4	2	1	8	7
2	7	4	1	5	8	6	9	3
3	1	8	9	7	6	5	2	4
8	4	2	7	6	9	3	1	5
1	3	6	5	2	4	8	7	9
7	9	5	8	1	3	2	4	6

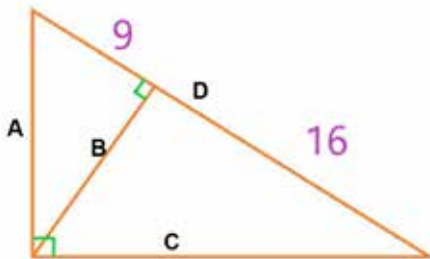


18. REKENEN

- 18.3** Twee wielrenners doen mee aan een tijdrit.
Jan, die als eerste start, rijdt constant 30 km/uur. Ben rijdt constant 36 km/uur.
Als Ben start, passeert Jan onze parochiekerk.
Op het moment dat Ben deze kerk passeert, finisht Jan.
Ten slotte finisht Ben precies een half uur na Jan. Hoe lang is het traject van de tijdrit?
(rond af op 1 decimaal)

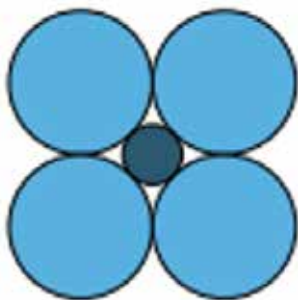
39,6 kilometer

- 18.4** Kennen we de stelling van Pythagoras nog?
Van deze driehoek is zijde D $9+16=25$ cm.
Hoek AC is 90 graden.
Bereken de lengte van B en C




$B = 12\text{cm}$ $C = 20\text{cm}$

- 18.5** Altijd maar weer cirkels.
Rondom een centrale cirkel liggen vier even grote cirkels die allemaal de centrale cirkel raken, en elkaar bovendien twee aan twee raken (zie de figuur).
De straal van ieder van de vier grote cirkels is 1 meter.
Hoe groot is de straal van de centrale cirkel? (rond af op 2 decimalen)



0,41 meter



19. GEMEENTE BERNHEZE

19.1 In Bernheze is er een aantal jaar geleden actief gestart met diverse CPO projecten. Ook in Vorstenbosch kennen we het CPO project de Helling. Hierover een aantal vragen.

19.1.a Met welk percentage BTW kon de grond bij CPO project de Helling worden gekocht?

6 % BTW

19.1.b In welk jaar zijn de woningen op CPO project de Helling opgeleverd?

2013

19.1.c Wie zaten in het bestuur van het CPO project de Helling?

Inge Bonnet, Kim Hommeles, Danny vloet (Miel Smits)

19.1.d Hoeveel van de huizen die staan op de Dorpsrand zijn oorspronkelijk gekocht met CPO de Helling?

8 woningen

19.1.e Welke wethouder was destijds actief betrokken bij het project?

Hans van der Pas

19.2 Onze gemeente kent inmiddels diverse Burgemeesters.

19.2.a Wie was de kortst zittende burgemeester van Bernheze?


Willibrord van Beek

19.2.b Van welke datum tot welke datum heeft de burgemeester uit de vorige vraag gezeten?

29 oktober 2012 tot 15 september 2013

19.2.c Wie was de eerste burgemeester van Gemeente Bernheze?

José van Gorp



19. GEMEENTE BERNHEZE

19.2.d Wat was destijds bijzonder bij de aanstelling van deze burgemeester?

Partijloos (door opzeggen lidmaatschap van CDA. Sinds 2019 mag dit wel. Destijds was het bijzonder.)

19.2.e Burgemeester Heijmans ging naar Weert en nam z'n ontslag. Wat waren de redenen voor zijn ontslag?

Rijksbijdrage (COA gelden) gebruikt voor asielzoekers in de gemeente. Contant geld voor vluchtelingen aangelegenheden. Niet verklaard kunnen worden, omdat er geen administratie Coa gelden toegekend voor vluchteling. Hier had hij geen mandaat. Belangenverstremgeling gelden voor stichting.

19.3 Tijdens de inhuldiging van Willem-Alexander op 30 april 2013 in De Nieuwe Kerk in Amsterdam mochten 500 burgers komen. Zo ook een inwoner van de Gemeente Bernheze. Wie was die inwoner?

Henny van Houtum


19.4 Vanuit de Bernhezer Kunstkring werd er in 2020 een Bernhezer talkshow gemaakt, genaamd De Waan. Welke antwoorden zoeken wij?

19.4.a Welk geheim van de zus van Rachel werd haar fataal?

Dubbel leven, ging niet meer naar school, volgde geen school.

19.4.b Waarvoor werden excuses gemaakt n.a.v. de afwezigheid van Peter van Boekel als wethouder?

Het was niet duidelijk waar portefeuilles naar toe gingen of ze werden opgepakt.



19. GEMEENTE BERNHEZE

19.4.c Christel kon kiezen uit 3 donoren. Hoe maakte ze haar keuze?

Op basis van de sterkste foto.

19.4.d Hoe is Pietje Taxi begonnen met het taxibedrijf?


Geen taxi in Heesch, omdat de oom van Pietje ziek werd en overleed. Er werd gevraagd om het over te nemen en dat deed hij.

19.4.e Wat is volgens Anne de grootste verandering in de uitvaartwereld?

Livestream

19.5 Je moet het maar weten. Het bestaan van de adviesraad voor het sociaal Domein. Welke collega van Inge van der Pas-Bonnet zat in de Adviesraad voor het Sociaal domein?

Liesbeth van Doorn



20. ONDERWEG

20.1 Hieronder drie aanwijzingen naar twee locaties. Waar bevinden zich deze?
Omschrijf de precieze locaties.

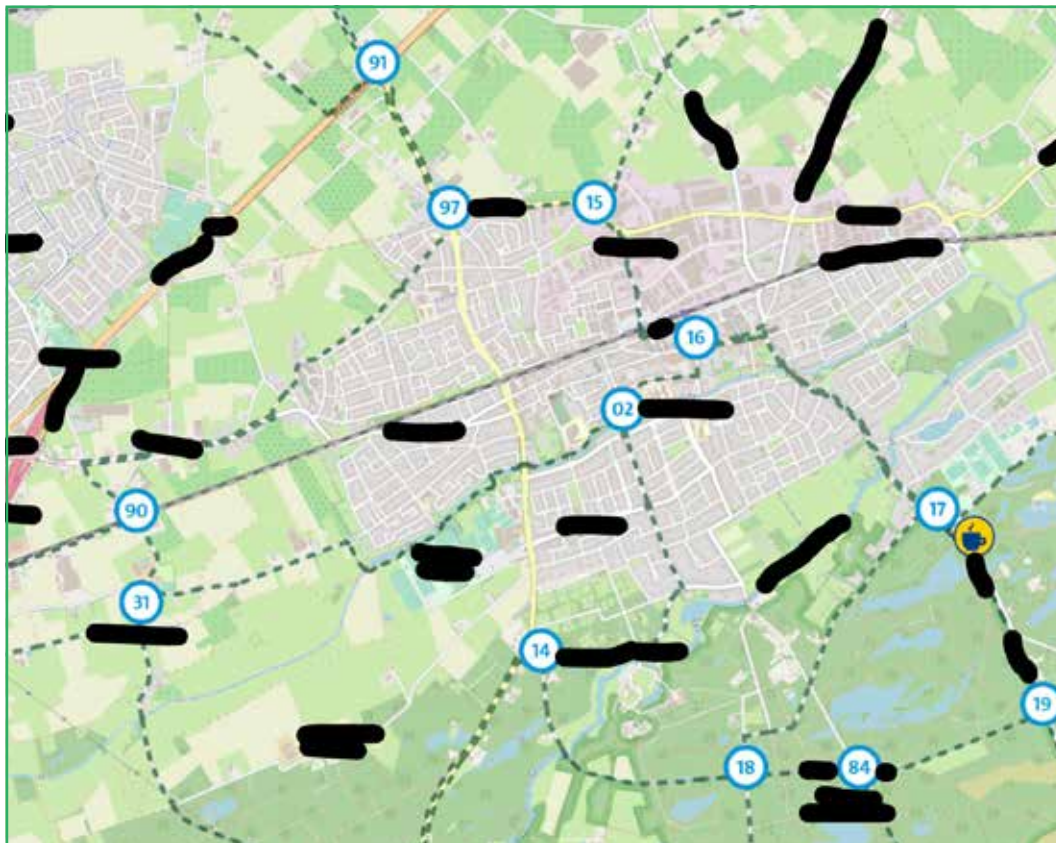
20.1.a Zait, Werver, Mistig

Eiffeltoren


20.1.b Groeide, Voorwas, Kleur

Angkor Wat

20.2 De commissie van Vorstenbosch 'Kwist is een dag samen gaan fietsen. In welk dorp / welke stad hebben zij onderstaande fietsroute gefietsd?

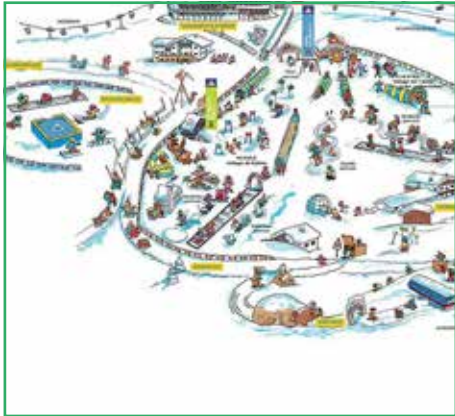


Oisterwijk



20. ONDERWEG

20.3 Bekijk hieronder de foto's van verschillende skigebieden en vertel ons om welk gebied het gaat.

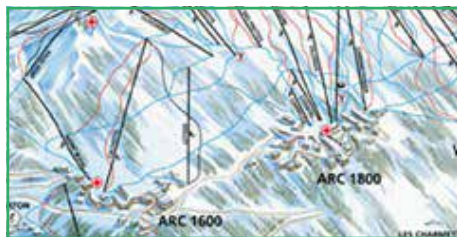


20.3.a



20.3.d

Serfaus



20.3.b

Willingen



20.3.e

La Plagne




20.3.c

Winterberg

Skicircus Saalbach

Hinterglemm Leogang

Fieberbrunn



20. ONDERWEG

20.4 Veel Nederlanders gebruiken Google Maps om te navigeren of juist om te kijken hoe lang hun reis duurt. Wij hebben voor jullie een reis samengesteld waarbij we vertrekken vanuit Vorstenbosch. We zouden van jullie graag willen weten in welke 5 plaatsen we daarna komen. De tijden zijn volgens Google Maps en houden geen rekening met actueel verkeer. Verder wordt er gerekend van plaats naar plaats dus niet een specifiek adres. Ook houden we de snelste route aan.

We starten onze reis zoals gezegd in Vorstenbosch. We beginnen de reis met een mooie wandeltocht van 10 km. Na 2 uur en 2 minuten komen we op de eerste plaats aan. Na een korte pauze pakken we de fiets en fietsen we 1 uur en 2 minuten onafgebroken naar de volgende plaats, 19,6 km verderop. Hierna verplaatsen we ons 13 minuten lang naar de derde plaats van de dag. Met 10,1 km is dit een klein stukje met de auto. Het zonnetje begint te schijnen en we besluiten om i.p.v. de auto weer lekker sportief de fiets te pakken. We fietsen 16 km waardoor we na 50 minuten op onze vierde locatie aanbelen. Als laatst besluiten we een lekker stukje te lopen. Een stukje kunnen we trouwens niet zeggen. We lopen namelijk maar liefst 14,6 km waardoor we een minuutje minder nodig hebben dan de volle 3 uur. In deze plaats ligt meteen ons eindpunt.

20.4.a Vinkel

20.4.d Mariaheide


20.4.b Boxtel

20.4.e Schaijk

20.4.c Olland

20.5 Elk vakantieland heeft wel iets wat dat land speciaal maakt. Verder kan iedereen voorwerpen bedenken waardoor er meteen aan vakantie gedacht wordt. Wij zijn benieuwd hiernaar. Door Vorstenbosch hebben we verschillende QR-codes hangen. Bij deze codes willen we een foto van jullie met daarop minimaal één variërend vakantie attribuut. Scan vervolgens de QR-code om de volgende locatie te vinden. Sla de foto's op de usb-stick op onder vraag 20.5 A, B enz.

Scan de code hieronder om te beginnen.




21. GEHEIME OPDRACHTEN

21.1 Ren je Rot:

Zorg dat één van je sportieve teamleden om 19.20 uur aanwezig is bij de Stuik.
Laat hem of haar sportschoenen meenemen, dus nog NIET aan.
NEEM DIT VEL MEE!!

Groepsnummer




21. GEHEIME OPDRACHTEN

21.2 De Duizendpoot

Zorg dat de duizendpoot van je team om 20.20 uur bij de Stuik is.
ZORG DAT DEGENE DIE KOMT DIT VEL MEENEEMT!!

Groepsnummer






6.1 PLASTIC JURK

6.1

Plastic jurk

Doe de jurk aan en zorg dat je om 21.30 uur bij het mr. Loeffenplein bent.
Neem dit formulier mee!

Groepsnummer



SPONSOREN BEDANKT!



VORSTENBOSCH 'KWIST EVALUATIE

Als je dit volledig invult ontvang je 5 bonuspunten!

Voor de organisatie van de volgende Vorstenbosch 'kwist hebben we graag jullie mening over deze kwis. Graag omcirkelen wat het beste van toepassing is. (0 = slecht 5 = goed) Op de lijntjes kun je eventueel een korte toelichting geven.

Wat vond je van de variatie in categorieën en vragen?

0 1 2 3 4 5

Wat vond je van de moeilijkheidsgraad van de vragen?

0 1 2 3 4 5

Hoe beoordeel je in zijn algemeenheid de Vorstenbosch 'kwist?

0 1 2 3 4 5

Gaan jullie volgende keer weer meedoen met Vorstenbosch 'kwist?

0 Nee 0 Waarschijnlijk 0 Zeker wel

Verder nog suggesties of opmerkingen?

Feestavond

Verder willen we graag weten hoeveel personen we ongeveer van jullie team mogen ontvangen bij de prijsuitreiking op vrijdag 14 april 2023. Deze vindt plaats in De Stuik, aanvang 20.00 uur.

Aantal personen



VORSTENBOSCH 'KWIST EVALUATIE

Bedankt voor jullie medewerking, we hopen dat jullie een erg leuke, gezellige en leerzame avond hebben gehad.

Graag tot bij de prijsuitreiking!

De Vorstenbosch 'Kwist commissie

Henny van Houtum, Coen Jansen, Kitty Verstegen, William Verkuijlen, Sylvia van de Leest, Inge van der Pas, Tom Huberts, Monique Verkuijlen, Inge Klomp en Roel van Groesen.

**BEDANKT VOOR HET MEEDOEN
EN TOT VOLGEND JAAR**

